

泸县 2021 年春期二年级数学教学质量阶段检测（三）

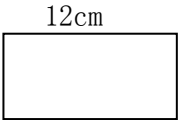


内容：第1—4单元

时间：60 分 总分：100 分

题号	一	二	三	四	五	六	总分	总分人
得分								

得分	评卷

一、填空题。（每空 1 分，共 33 分）

1. 从右边起第五位是（ ），（ ）个一千是一万。
2. 和 700 相邻的两个数分别是（ ）和（ ）。
3. 一个数由 4 个千，2 个百，8 个一组成，这个数是（ ）
4. 由 5、4、3、0 四个数组成的四位数中，最大的是（ ），最小的是（ ），一个零都读不出来的是（ ）
5. $3\text{km} = ()\text{m}$ $60\text{mm} = ()\text{cm}$ $8\text{m} = ()\text{cm}$
 $5000\text{m} = ()\text{km}$ $4\text{dm} = ()\text{cm}$ $90\text{dm} = ()\text{m}$
6. 最小的三位数和最大的两位数相差（ ）。
7. 在里填适当的单位。
一支铅笔长约 20（ ） 数学书厚约 6（ ）
8. 在下面的○里填上>、<或=。
- $10\text{mm} \bigcirc 1\text{dm}$ $4898 \bigcirc 4896$ $809 \bigcirc 1001$
 $6 \text{ 个千} \bigcirc 6000$ $3000\text{m} \bigcirc 3\text{km}$ $5\text{m} \bigcirc 48\text{dm}$
9. 找规律写数：
- (1) 1750, 1850, 1950, (), (), ()。
- (2) 10, 13, 17, 22, (), ()。
10. 在（ ）里填合适的数。
-  () 4cm
()
-  ()
()
-  ()
()

得分	评卷

二、判断题。（每题 1 分，共 5 分）

11. 一个数的最高位是千位，这个数是五位数。 ()
12. 一个加数增加 5，另一个加数减少 5，他们的和就增加 10。 ()
13. 十位上的 7 表示的数比百位上的 7 表示的数大。 ()
14. 正方形、长方形、平行四边形的四个角都是直角。 ()
15. 比 10000 小的数只有 9999。 ()

得分	评卷

三、选择题。（每题 1 分，共 5 分）

16. 量一枚硬币的厚度一般用 () 作单位。
A、km B、mm C、cm
17. () 图形的四条边相等，四个角也相等。
A、长方形 B、平行四边形 C、正方形
18. 在加法中，一个加数不变，另一个加数增加 100，和 ()。
A、增加 100 B、减少 100 C、不变
19. () 是算盘的故乡。
A、中国 B、日本 C、朝鲜
20. 下面各数中，一个“0”也不读的是 ()
A、5060 B、5006 C、5600

得分	评卷

四、计算题。（共 24 分）

21. 直接写得数。（8 分）

$$\begin{array}{llll}
 8 \times 8 - 50 = & 43 + 54 = & 300 + 500 = & 318 + 204 \approx \\
 72 \div 8 + 90 = & 290 - 140 = & 360 - 60 + 120 = & 819 - 521 \approx
 \end{array}$$

22. 竖式计算（③和⑥要检验）（16 分）

$$\textcircled{1} 600 - 237 = \quad \quad \quad \textcircled{2} 307 - 117 = \quad \quad \quad \textcircled{3} 427 + 573 =$$

④ $251 - 154 =$

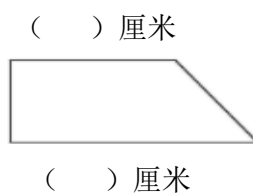
⑤ $249 + 458 =$

⑥ $714 - 648 =$

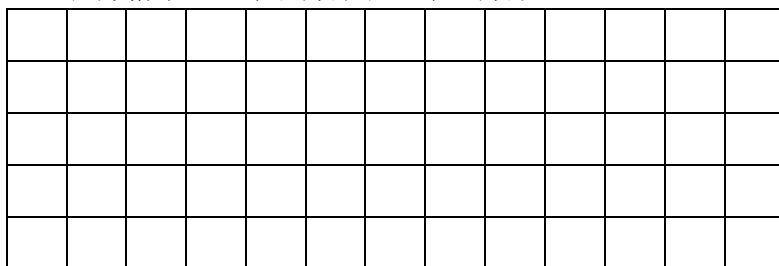
得分	评卷

五、操作题。（共 7 分）

23. 画出一条线，把右面的图形分成一个长方形和一个三角形，再量出长度填在（ ）里。



24. 在方格中画一个长方形和一个正方形。



得分	评卷

六、问题解决。（25 题 6 分，其余每题 4 分，共 26 分）

25. 买电器。



485 元/台



290 元 / 台



850 元/台

① 一台电视机比一台洗衣机贵多少钱？

② 小军爸爸带了 800 元，买一台洗衣机和一台电风扇，够吗？

26. 江南车站每天发出客车 365 次, 江北车站每天比江南车站多发出客车 80 次。江南和江北两个车站每天一共发出客车多少次?

27. 饲养场养了 586 只鸡，饲养的鸭比鸡少 38 只。养鸭多少只？

28. 扎西家养了山羊 306 只, 养的绵羊比山羊少 86 只。扎西家的绵羊和山羊一共有多少只?

29. 育才小学组织全校学生看电影。学校有男同学 327 人，女同学 336 人。电影院里有 800 个座位， 还剩多少个座位？

30. 一年级植树 123 棵, 二年级植树 219 棵。六年级植树的棵数比一、二年级植树的总数少 57 棵。六年级植树多少棵?

参考答案

一、填空题。（每空 1 分，共 33 分）

1. 万位, 10
2. 699, 701
3. 4208
4. 5430, 3045, 3450 (答案不唯一)
5. 3000, 6, 800, 5, 40, 9
6. 1
7. cm, mm
8. $<$, $>$, $<$, $=$, $=$, $>$
9. 2050, 2150, 2250 28, 35, 43
10. 略

二、判断题。（每题 1 分，共 5 分）

11. \times 12. \times 13. \times 14. \times 15. \times

三、选择题。（每题 1 分，共 5 分）

16. B 17. C 18. A 19. A 20. C

四、计算题。（共 24 分）

21. 14, 97, 800, 520, 99, 150, 420, 300
22. 363, 190, 1000, 97, 707, 66

五、操作题。（共 7 分）

23. 略
24. 略

六、问题解决。（25 题 6 分，其余每题 4 分，共 26 分）

25. ① $850-485=365$ (元) ② $485+290=775$ (元) $800>775$, 够
26. $365+80+365=810$ (次)
27. $586-38=548$ (只)
28. $306-86+306=526$ (只)
29. $800-(327+336)=137$ (个)
30. $123+219-57=285$ (棵)

评分说明：卷面分大于 85 分或进入全班前三分之一区间者，评定为“优秀”；卷面分大于 70 分或进入全班前三分之二区间者，评定为“良好”；卷面分不小于 60 分者，评定为“及格”；卷面分小于 60 分者，补考后再评定等级。教师应鼓励学生用多种方法解题，未按常规解题者，教师应酌情给分。